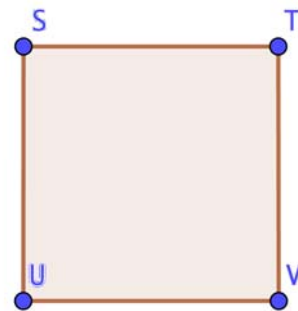
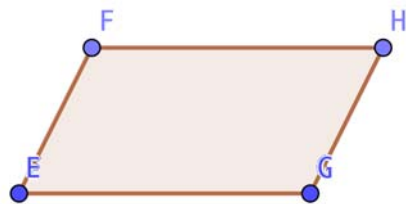
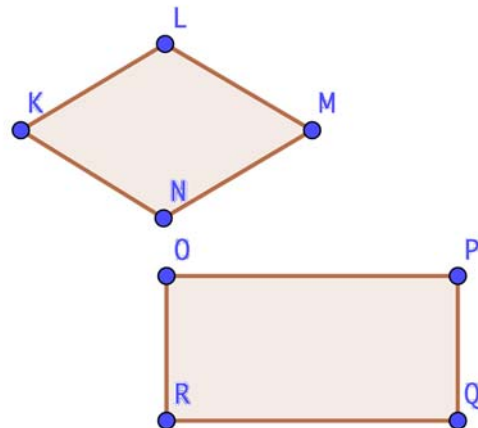
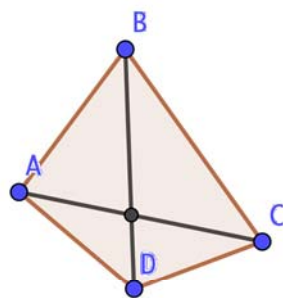


Séance 7 : Diagonales d'un quadrilatère



Évaluation — Durée : 10 minutes

Prénom :

Nom :

Date :

1. Sur la figure ci-dessus, trace toutes les diagonales des quadrilatères, et vérifie les propriétés énoncées par le professeur en écrivant la propriété à côté de la figure.