

Prénom :

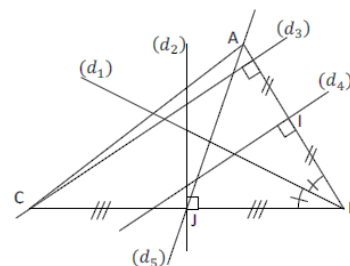
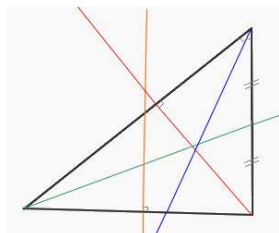
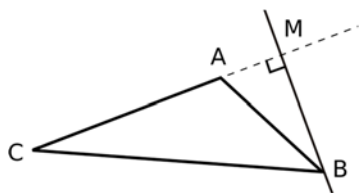
Nom :

Durée : 45 minutes

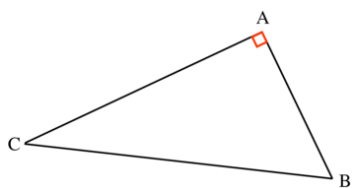
Date :

Évaluation finale

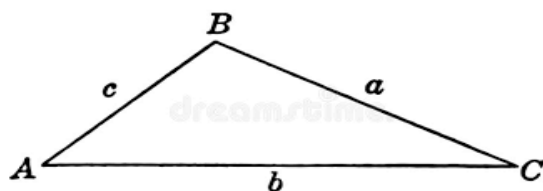
- 1- Colorie les segments représentant les hauteurs des triangles ABC ci-dessous



- 2- Trace la hauteur H du triangle ABC au sommet B



- 3- Trace la hauteur H du triangle ABC ci-dessous au sommet C



- 4- Identifie les droites remarquables du triangle ABC ci-dessous

